

Les signes = et ≠

1. Complete avec = ou ≠.

 ...  

2. Dessine les cubes sur le plateau vide.

— ≠   = —  ≠ 

 = —  ≠ —  ≠ — 

3. Ecris le nombre de cubes.

Puis complete avec = ou ≠.







   
• ... • • ... • • ... •

4. Complete les egalites.







5 ... 4 3 = ... 7 ... 9 ... ≠ 5
6 ... 6 4 ≠ ... 8 ≠ = 6

Les signes = et ≠ (2)

1. Ecris le nombre de cubes.
Puis complete avec = ou ≠.

     
• + • ... • • + • ... • • ... • + •

2. Dessine les cubes sur le plateau vide.
Puis complete les calculs.

     
5 + 2 = • • ≠ 3 + 5 • + • ≠ 4

3. Complete les egalites.

9 ... 4 + 5 ... = 5 + 2 4 + 6 ≠ ...
7 ... 6 + 2 • + • = 10 7 = • + •
3 + 6 ... 10 8 ≠ • + • 5 + • = • + 7