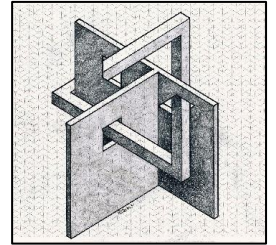


# RALLYE MATHÉMATIQUE 2022-2023

CP

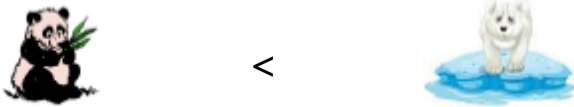
Circonscription de Montluçon 1




## Exercice 1 - 20 points

4 animaux, le panda, l'ours blanc, l'ours brun et le grizzly comparent leur taille.

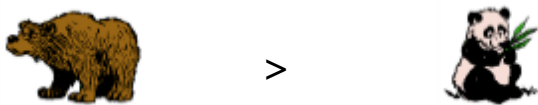
Le panda est plus petit que l'ours blanc.




L'ours brun est plus petit que le grizzly.



L'ours brun est plus grand que le panda.



L'ours blanc est plus petit que le grizzly.



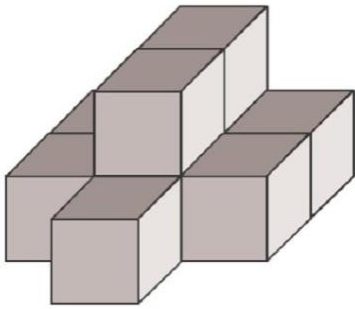
Quel animal est le plus grand ?

## Exercice 2 - 15 points



Que faut-il faire pour qu'il y ait autant de louches que de marmites ?

### Exercice 3 - 15 points



Combien faut-il de cubes pour reproduire cet assemblage ?

(Des cubes peuvent être à disposition)

### Exercice 4 - 10 points

Colorie les billes par deux quand la somme des deux nombres est égale à 10 comme dans l'exemple ( $10 = 7 + 3$ )

Quel nombre figure sur la bille qui reste ?

