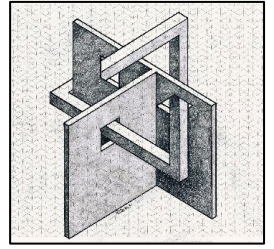


RALLYE MATHÉMATIQUE 2022-2023




CP - Manche 3

Circonscription de Montluçon 1



Exercice 1 - 20 points

Voici le prix de 3 fleurs



Indique le prix total des 3 fleurs du cadre.

Exercice 2 - 15 points



Dans un premier vase, on met 1 fleur.

Dans un deuxième vase, on met 2 fleurs.

Dans un troisième vase, on met 3 fleurs... Et ainsi de suite...

Combien faut-il de vases pour mettre 28 fleurs ?

Exercice 3 - 15 points

En mai, c'est l'anniversaire de Lina, Simon, Coralie, Taj, Louise, Amen, Myriam et Louise. Ils ont tous 7 ans.

Chacun amène un gâteau et 7 bougies. Avant de chanter, on allume toutes les bougies.

Combien de bougies sont-elles allumées ?



